



PEMERINTAH KOTA PALANGKA RAYA

**DINAS PENDIDIKAN
SDIT ALAM IKM AL MUHAJIRIN**

**PENILAIAN AKHIR SEMESTER 1 (PAS-1)
TAHUN PELAJARAN 2021/2022**

LEMBAR SOAL

Mata Pelajaran : Bahasa Dayak dan Pelestarian Alam
Satuan Pendidikan : SD
Kelas/ Semester : I (satu)/1 (satu) (Sudah Bisa Membaca)
Hari/ Tanggal : Rabu, 15 Desember 2021
Waktu : 70 menit
Nama :

PETUNJUK UMUM

A. Soal Pilihan Ganda

1. Pilihlah jawaban yang tersedia pada lembar soal.
2. Tulislah lebih dahulu nama lengkap pada kolom yang tersedia
3. Periksa dan bacalah soal-soal sebelum kamu menjawabnya.
4. Laporkan pada Pengawas Kelas jika terdapat tulisan kurang jelas, naskah yang tidak lengkap atau rusak.
5. Kerjakan setiap soal dengan teliti dan benar.
6. Dahulukan menjawab soal-soal yang kamu anggap mudah.
7. Berilah tanda silang (X) pada huruf A, B, atau C di depan pernyataan yang paling tepat.
8. Bila ada pilihan ganda terdapat jawaban yang dianggap salah, dan kamu ingin memperbaikinya, coretlah dengan dua garis lurus mendatar pada jawaban yang dianggap salah, kemudian berilah tanda silang (X) pada huruf di depan jawaban yang benar.
9. Contoh : Jawaban semula : ~~X~~ B C
Diperbaiki menjadi : A ~~B~~ C

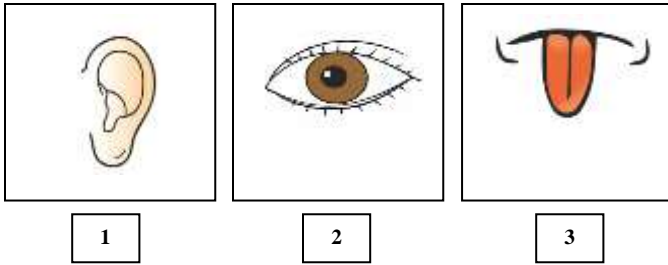
B. Soal Isian Pendek

1. Bacalah soal dengan teliti.
2. Jawablah pertanyaan dengan mengisi titik-titik yang tersedia di lembar soal.
3. Koreksi ulang sebelum jawaban kamu dikumpulkan.

SELAMAT BEKERJA

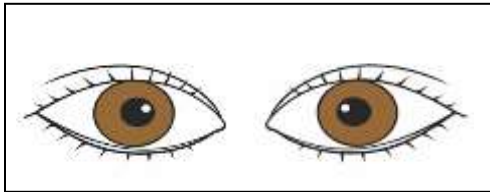
I. Pilihan Ganda

1. Narai aran anggota bereng je into gambar penda toh baturut-turut?



- a. Urung – mate – jela
- b. Pinding – mate – jela
- c. Jela – mate – pinding

2. Imparhati gambar into penda toh!



Narai kagwaan anggota bereng jitoj

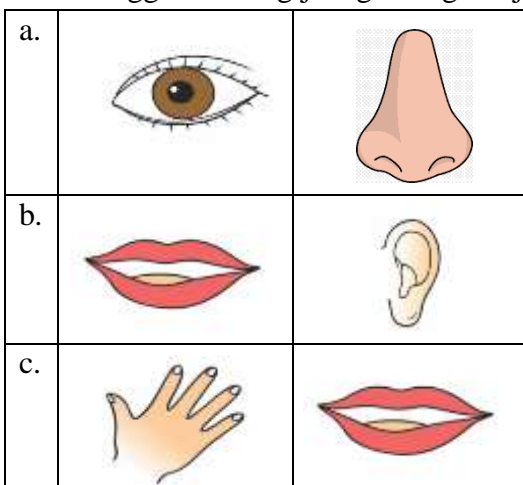
- a. Akan manampayah
- b. Akan mahining
- c. Akan manekap taloh

3. Imparhati lagu penda toh!

Due Matangku

Due lengengku
Sambil tuntang gantau
Ije nyamangku
Terai kuman dia tau


Narai anggota bereng je tege hong honjon te?



4. Narai bahasa dayak bara “Kakek”?

- a. Bue
- b. Tambi
- c. Mama

5. Imparhati gambar into penda toh!



Gambar je kana tenga garis into honjo te hong bahasa dayak inyewut

- a. Indu
- b. Bapa
- c. Mina

6. Daffa mandoi jam 06.00 hanjewu. Je kueh gambar je pas?



7. Narai aran aktivitas gambar penda toh?



- a. Mihop
- b. Manangkajuk
- c. Manyurat



8. Narai gawi oloh melai gambar penda toh?



- a. Mandoi
- b. Bausik
- c. Mamapas

9. Danu balajar manyurat sarita, jekueh gambar penda toh gambar oloh manyurat?



10. Imparhati angka je inyewot hong penda toh

Jahawen – Lime – Telo

Jekueh angka je pas sesuai kutak honjon te?

a.

9	3	4
6	5	3
7	3	5

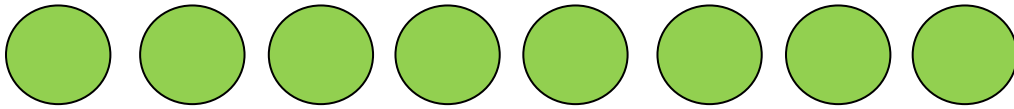
b.

6	5	3
7	3	5

c.


9	3	4
6	5	3

11. Tege pire gambar bulatan penda toh?



- a. Jalatien
- b. Hanya
- c. Sapuluh

12. Tege pire gambar kotak penda toh?



- a. Lime
- b. Jahawen
- c. Uju

13. Banjir merugikan seluruh makhluk hidup, tanpa terkecuali manusia. Salah satu kerugian dari banjir adalah bisa menyebabkan

- a. Penyakit
- b. Sehat
- c. Kaya

14. Dibawah ini yang merupakan penyebab terjadinya bencana alam banjir adalah

- a. Menanam pohon
- b. Menebang pohon sembarangan
- c. Membuang sampah pada tempat sampah

15. Saat di kelas nampak dibawah meja Azzam terdapat banyak sampah, sebaiknya sifat yang dilakukan Azzam adalah

- a. Membiarkan sampah tersebut
- b. Meminta Ibu Atus membersihkannya
- c. Membuang sampah tersebut ke bak sampah

16. Dibawah ini adalah aktivitas yang berkaitan dengan tindakan mencintai lingkungan hidup adalah

- a. Adiba membantu menyiram tanaman bunga kaca kelas 2
- b. Fatih memetik bunga kaca kelas
- c. Ilham membuang kertas sembarangan di kelas

17. Perhatikan jenis-jenis sayuran lokal di bawah ini!

- (I) Kalakai
- (II) Bajei
- (III) Brokoli
- (IV) Wortel

Kelompok sayuran yang merupakan sayuran lokal adalah terdapat pada nomor

- a. I dan II
- b. II dan III
- c. III dan IV

18. Manfaat dari memakan sayuran lokal bagi kesehatan adalah

- a. Menambah penghasilan
- b. Membuat tubuh semakin sehat
- c. Mencintai produk lokal

19. Apa nama sayuran lokal seperti gambar di bawah ini?




- a. Uwei rewa
- b. Kujang
- c. Bajei

20. Gambar disamping adalah gambar kalakai. Hasil olahan produk kalakai yang terkenal adalah

- a. Kerikip Kalakai
- b. Juhu Kalakai
- c. Oseng Kalakai




II. Isian Pendek

1.  Narai aran anggota bereng lai gambar toh

2. Imparhati gambar into penda toh!



Narai aran aktivitas into gambar honjon toh

3.  Narai aran angka jitoh hong bahasa Dayak

- 4. Bencana alam berupa luapan air yang berlebihan masuk ke tempat tinggal disebut
- 5. Sayuran yang beradaptasi di suatu daerah dan dapat tumbuh dengan baik disebut

**KUNCI JAWABAN PTS T.A. 2021-2022 MAPEL BAHASA DAYAK DAN
PELESTARIAN ALAM**

I. Pilihan Ganda

- | | | | |
|------|-------|-------|-------|
| 1. B | 6. A | 11. B | 16. A |
| 2. A | 7. B | 12. B | 17. A |
| 3. C | 8. C | 13. A | 18. B |
| 4. A | 9. B | 14. A | 19. A |
| 5. A | 10. B | 15. C | 20. A |

II. Isian Pendek

1. Pinding
2. Mandoi
3. Jalatien
4. Banjir
5. Sayuran lokal

PEDOMAN PENSKORAN

1. Pilihan Ganda

Satu butir soal pilihan ganda bobotnya 2,5

$$NA (PG) = 20 \times 2,5 = 50$$

2. Isian Pendek

Satu butir soal isian pendek bobotnya 10

$$NA (Isian) = 5 \times 10 = 50$$

3. Nilai Akhir

$$\text{Nilai Akhir} = NA (PG) + NA (Isian)$$