



**PEMERINTAH KOTA PALANGKA RAYA  
DINAS PENDIDIKAN  
SDIT ALAM IKM AL MUHAJIRIN**

**PENILAIAN AKHIR SEMESTER 1 (PAS-1)  
TAHUN PELAJARAN 2021/2022**

**LEMBAR SOAL**

Mata Pelajaran : Seni Budaya dan Prakarya  
 Satuan Pendidikan : SD  
 Kelas/ Semester : II (dua)/ (Belum Bisa Membaca) I(Satu)  
 Hari/ Tanggal : Selasa / 14 Desember 2021  
 Waktu : 70 menit  
 Nama : .....

**PETUNJUK UMUM**

**A. Soal Pilihan Ganda**

1. Pilihlah jawaban yang tersedia pada lembar soal.
2. Tulislah lebih dahulu nama dan kelas pada kolom yang tersedia
3. Periksa dan bacalah soal-soal sebelum kamu menjawabnya.
4. Laporkan pada Pengawas Kelas jika terdapat tulisan kurang jelas, naskah yang tidak lengkap atau rusak.
5. Kerjakan setiap soal dengan teliti dan benar.
6. Dahulukan menjawab soal-soal yang kamu anggap mudah.
7. Berilah tanda silang (X) pada huruf A, B, atau C di depan pernyataan yang paling tepat.
8. Bila ada pilihan ganda terdapat jawaban yang dianggap salah, dan kamu ingin memperbaikinya, coretlah dengan dua garis lurus mendatar pada jawaban yang dianggap salah, kemudian berilah tanda silang (X) pada huruf di depan jawaban yang benar.
9. Contoh : Jawaban semula : ~~A~~ B C  
 Diperbaiki menjadi : A B ~~C~~

**SELAMAT BEKERJA**

## I. Soal Pilihan Ganda

Berilah tanda silang (x) pada salah satu huruf a, b atau c pada jawaban yang paling benar!

1. Perhatikan nada-nada berikut.

2      3

Nada 2 (re) dan 3 (mi) masing-masing dinyanyikan selama. . .

- a. 1/2
  - b. 1
  - c. 2
2. Perhatikan penggalan lagu “Cicak” berikut.

5    3 | 5    3 | 3    4 | 5 . |

Ci – cak   Ci – cak   di   din – ding.

Nada 5 . dinyanyikan selama. . .

- a. 1/2
  - b. 2
  - c. 1
3. Perhatikan susunan nada-nada berikut.


(4/4)

5   2 3 4 | 2   3   1   .   ||

Setelah nada do (1) terdapat tanda titik. Nada do (1) bernilai . . . ketuk.


- a. Dua
  - b. Satu
  - c. Tiga
4. Gerak mengayuh sepeda termasuk gerak . . .
- a. Alam
  - b. Keseharian
  - c. Tiruan

*Gambar berikut untuk menjawab soal nomor 5 dan 6.*



5. Anak pada gambar menari secara . . .
- a. Berkelompok
  - b. Berpasangan
  - c. Sendiri

6. Anak pada gambar . . . tangan ke arah muka.
  - a. Memutar
  - b. Meliukkan
  - c. Mengayunkan
7. Perhatikan gambar berikut.



Gerak keseharian yang ditirukan anak-anak pada gambar di atas adalah . . .

- a. Menanam jagung
  - b. Menyisir rambut
  - c. Memetik buah
8. Gerak menyapu halaman termasuk gerak . . .
    - a. Keseharian
    - b. Tumbuhan
    - c. Alam
  9. Gambar imajinatif dapat dilihat dari satu arah. Gambar imajinatif merupakan karya . . .
    - a. Empat dimensi
    - b. Tiga dimensi
    - c. Dua dimensi
  10. Alat yang digunakan untuk membuat gambar imajinatif adalah . . .
    - a. Krayon
    - b. Pensil dan buku gambar
    - c. Pensil warna

*Gambar berikut untuk menjawab soal nomor 11 dan 12.*



11. Karya pada gambar dibuat berdasarkan . . .
  - a. Khayalan
  - b. Cetakan
  - c. Kenyataan

12. Karya pada gambar dapat dilihat dari . . . arah.

- a. Satu
- b. Dua
- c. Semua

13. Bahan yang diperoleh dari alam adalah . . .

- a. Bahan olahan
- b. Bahan buatan
- c. Bahan alam

14. Langkah membuat kotak pensil sesuai gambar berikut adalah . . .



- a. Membuat alas tempat pensil
- b. Merangkai ranting sebagai badan tempat pensil
- c. Menghias tempat pensil

15. Perhatikan gambar berikut.



A


B

C

Bahan alam ditunjukkan pada gambar . . .

- a. B dan C
- b. A dan C
- c. A dan B

*Gambar berikut untuk menjawab soal nomor 16 dan 17.*



16. Gambar di atas adalah gerak tari menirukan . . .

- a. Menyirami bunga
- b. Bunga tertiup angin
- c. Kuncup bunga mekar

17. Syair lagu pada saat melakukan gerak tari pada gambar adalah . . .
- Ada yang putih da nada yang merah
  - Setiap hari kusiram semua
  - Lihat kebunku penuh dengan bunga
18. Gerak tari berikut yang termasuk gerak alam adalah . . .
- Gerak tari menirukan bunga tertiuip angin
  - Gerak tari menirukan orang mengepel lantai
  - Gerak tari menirukan orang menyirami tanaman
19. Perhatikan langkah-langkah berikut.
- Mengikat benang wol pada garpu
  - Mengikat lilitan benang wol pada bagian tengah garpu
  - Menggunting sisi bagian samping lilitan benang wol
- Langkah-langkah di atas termasuk cara membuat . . .
- Boneka beruang dari kain flanel
  - Boneka kelinci dari benang wol
  - Boneka kucing dari dakron
20. Karya imajinatif tiga dimensi dibuat berdasarkan . . .
- Khayalan
  - Kenyataan
  - Kebenaran
21. Syakira memotong pita berwarna merah. Pita itu akan diikatkan diboneka dari benang wol. Syakira akan . . . boneka dari benang wol.
- Membangkai
  - Membungkus
  - Menghias
22. Bahan buatan untuk membuat prakarya adalah . . .
- Biji-bijian
  - Kertas
  - Daun kering

*Gambar berikut untuk menjawab soal nomor 23 – 25.*

**Rancangan prakarya**

Judul prakarya : Tempat pensil

Alat dan bahan : Gunting, lem kain, botol bekas, kain flanel.



23. Prakarya yang akan dibuat sesuai rancangan adalah . . .
- a. Tempat pensi
  - b. Tempat Buku
  - c. Tempat makanan
24. Bahan yang digunakan untuk membuat prakarya adalah . . .
- a. Botol bekas dan kain flanel
  - b. Gunting
  - c. Pita
25. Perekat yang digunakan untuk membuat prakarya adalah . . .
- a. Selotip
  - b. Kertas
  - c. Lem kain

KUNCI JAWABAN PAS-1 T.A 2021-2022 MAPEL Seni Budaya dan Prakarya

**A. PILIHAN GANDA**

- |       |       |       |
|-------|-------|-------|
| 1. B  | 11. A | 21. C |
| 2. B  | 12. A | 22. B |
| 3. A  | 13. C | 23. A |
| 4. B  | 14. B | 24. A |
| 5. C  | 15. B | 25. C |
| 6. C  | 16. C |       |
| 7. A  | 17. C |       |
| 8. A  | 18. A |       |
| 9. C  | 19. B |       |
| 10. B | 20. A |       |

**Skor Penilaian**

I. Pilihan Ganda

- Satu Butir Soal Pilihan Ganda Bobotnya 4

$$NA (PG) = 100$$

II. Penilaian Akhir

$$\mathbf{NILAI AKHIR = Nilai PG = 100}$$